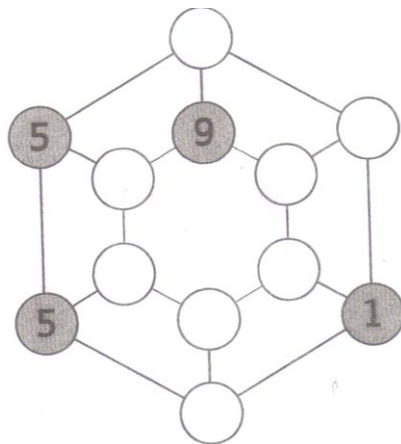


ESCOLA SECUNDÁRIA DE JÁCOME RATTON
 GRUPO DISCIPLINAR DE MATEMÁTICA
 DESAFIO N.º5 – 3º CICLO
 8º ANO/9º ANO

CÁLCULO

1. Cada círculo está ligado a outros três. A soma dos números destes três círculos (sem incluir o número que os liga) deve ser 17 em todos os casos. Preencha os círculos em branco com os números que damos.




- 3
- 9
- 1
- 5
- 5
- 11
- 3
- 11



RACIOCÍNIO

2. Nesta ilustração existe uma figura que é especialmente diferente das outras. Qual é e porquê?

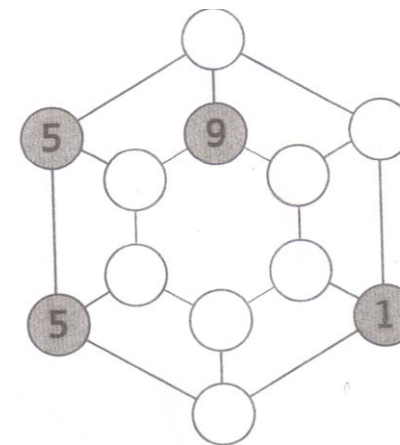


Nome: _____ Nº__ Turma__ Ano__

ESCOLA SECUNDÁRIA DE JÁCOME RATTON
 GRUPO DISCIPLINAR DE MATEMÁTICA
 DESAFIO N.º5 – 3º CICLO
 8º ANO/9º ANO

CÁLCULO

1. Cada círculo está ligado a outros três. A soma dos números destes três círculos (sem incluir o número que os liga) deve ser 17 em todos os casos. Preencha os círculos em branco com os números que damos.




- 3
- 9
- 1
- 5
- 5
- 11
- 3
- 11



RACIOCÍNIO

2. Nesta ilustração existe uma figura que é especialmente diferente das outras. Qual é e porquê?



Nome: _____ Nº__ Turma__ Ano__